



Les liaisons mécaniques : Exercice



Nom : _____ Prénom : _____

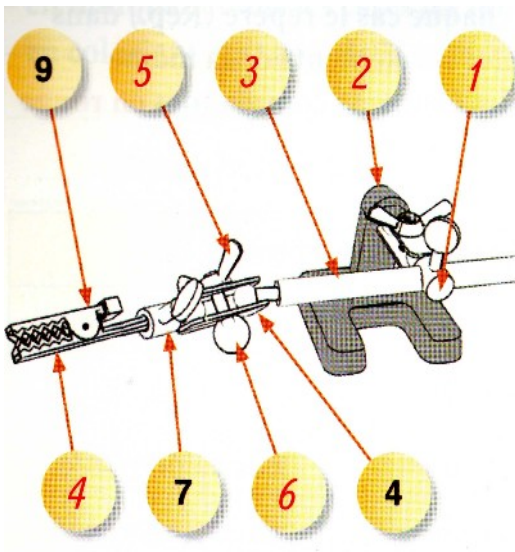
1 / Trouver les différentes liaisons des pièces entre elles après les avoir coloriées.



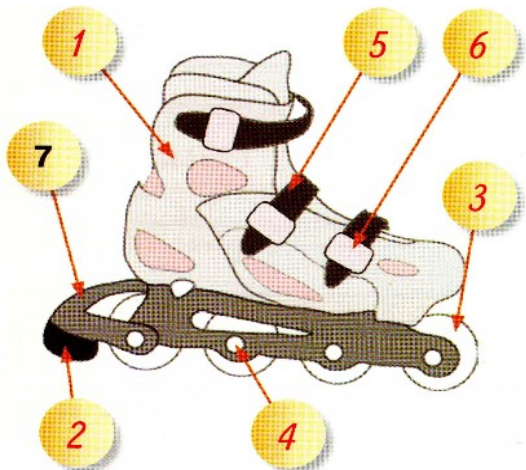
Pivot glissant



2 / Donner le nom de la liaison entre les éléments.



3eme Main		
Rep.	Éléments	Liaison
1 / 2	Axe/Support	
3 / 4	Bras/Articulation	
5 / 6	Vis/Écrou	
7 / 4	Manchon/Articulation	
8 / 9	Mâchoire inférieure/supérieure	



Roller		
Rep.	Éléments	Liaison
1 / 7	Chausson/Base	
5 / 6	Sangle/Boucle	
4 / 3	Axe roue/Roue	
4 / 7	Axe roue/Base	
2 / 7	Frein/Base	